

3.6 Grundwert berechnen


Aufgabe 1:

Beim Kauf eines PKWs zahlt Frau Gugau 3500 € an.

Das sind 20 % des Kaufpreises.

Wie teuer ist das Auto?

Rechnung:



Antwort: _____


Aufgabe 2:

35 % aller Schüler besuchen den Kurs „Video und Comics“.

Das sind 245 Schüler.

Wie viele Schüler besuchen insgesamt diese Schule?

Rechnung:



Antwort: _____

3.6 Grundwert berechnen


Aufgabe 3:

Leon leiht seinem Freund 15 €.

Das sind 25 Prozent seines monatlichen Taschengeldes.

Wie viel € Taschengeld bekommt Leon?

Rechnung




Antwort: _____

Aufgabe 4:

32 Schüler einer Grundschule kommen mit dem Taxi zur Schule.

Es sind 20 Prozent der gesamten Schülerzahl. Wie viele Schüler gehen auf die Schule?

Rechnung



Antwort: _____


Aufgabe 5:

9 Schüler einer Klasse haben die Hausaufgabe falsch gemacht.

Das sind 30 % aller Schüler.

Wie viele Schüler hat die Klasse?

Rechnung



Antwort: _____
