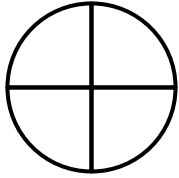



Aufgabe 1:

a) In welche Bruchteile wurden die Kreise aufgeteilt?


(1)




(2)




(3)

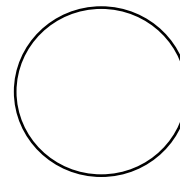


(4)



b) Teile die Kreise selbst in Bruchteile.
Schreibe die Bruchteile unter die Kreise.





1.3 Brüche lesen und schreiben

Aufgabe 2:

Welche Abbildung ist falsch?
Streiche durch.

