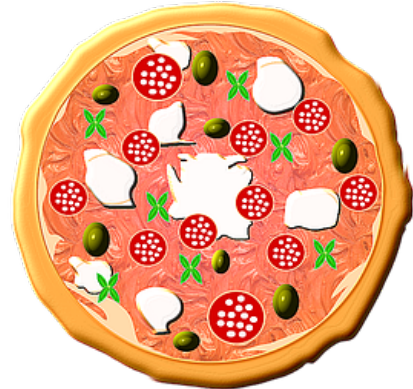


1.5 Brüche als Anteile

Aufgabe 1:

Jule, Max, Leon, Merle und Laura haben eine Pizza bestellt.
Max isst ein Viertel der Pizza.

Laura, Merle und Leon essen jeweils $\frac{1}{8}$ der Pizza.



a) Wer bekommt welchen Anteil? Zeichne ein.

Max: _____

Merle: _____

Laura: _____

Leon: _____

b) Welchen Anteil bekommt Jule?

Aufgabe 2:

Finde die passenden Anteile heraus.

a) 3 Monate sind...

b) 9 Monate sind...

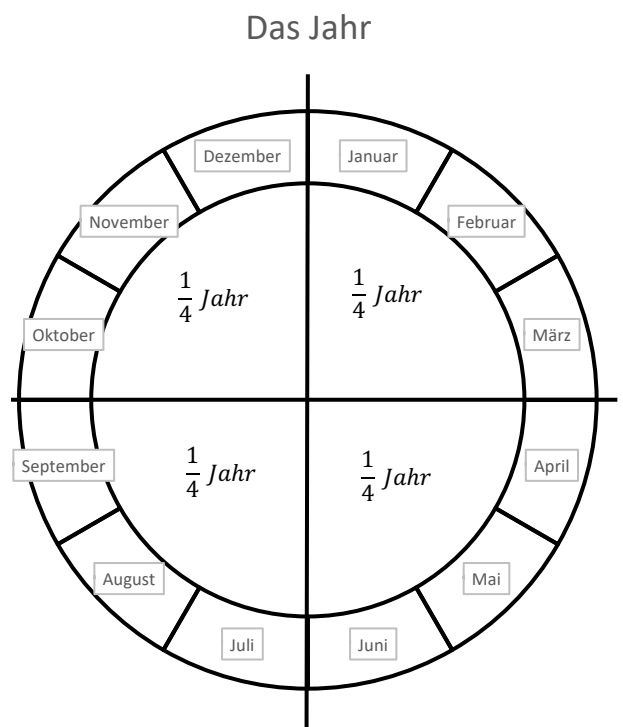
c) 6 Monate sind...

Wie viele Monate hat...

d) $\frac{1}{4}$ Jahr?


e) $\frac{1}{2}$ Jahr?

f) $\frac{3}{4}$ Jahr?



Aufgabe 3:

Gib den Anteil der weißen Ballons an.



—



—



—



—