









2.3 Bruchzahlen in bekannte Dezimal- und Bruchzahlen umwandeln

Aufgabe 1: Fülle die Tabelle aus.

Dezimalzahl	Bruchzahl	Beispiel
0,25 kg		Packung Butter 
	$\frac{1}{2}$ kg	Joghurtbecher 
	$\frac{3}{4}$ h	Eine Schulstunde 
1,0 l	$\frac{1}{1}$ l	

Dezimalzahl	Bruchzahl	Beispiel
	$\frac{1}{4}$ kg	Packung Butter 
0,5 kg	$\frac{1}{2}$ kg	
0,75 h		Eine Schulstunde 
1,0 l		Tetrapack Milch 

Dezimalzahl	Bruchzahl	Beispiel
0,25 kg	$\frac{1}{4}$ kg	
0,5 kg		Joghurtbecher 
0,75 h	$\frac{3}{4}$ h	
	$\frac{1}{1}$ l	Tetrapack Milch 

Aufgabe 2: Verbinde.

$$\frac{3}{4}$$

$$\frac{1}{2}$$

$$\frac{1}{4}$$

$$\frac{1}{5}$$

$$\frac{1}{10}$$

$$\frac{1}{3}$$

0,25

0,33

0,1

0,75

0,5

0,2

Aufgabe 3: Was passt zusammen? Male in der gleichen Farbe an.

$\frac{1}{5}$	$\frac{1}{2}$	0,75	0,25	$\frac{3}{4}$
0,5	$\frac{1}{4}$	0,33	0,1	0,2
			$\frac{1}{3}$	$\frac{1}{10}$