





Aufgabe 1


Welchen Anteil haben die Farben im Diagramm? Trage ein.





 _____


 _____




 _____

 _____



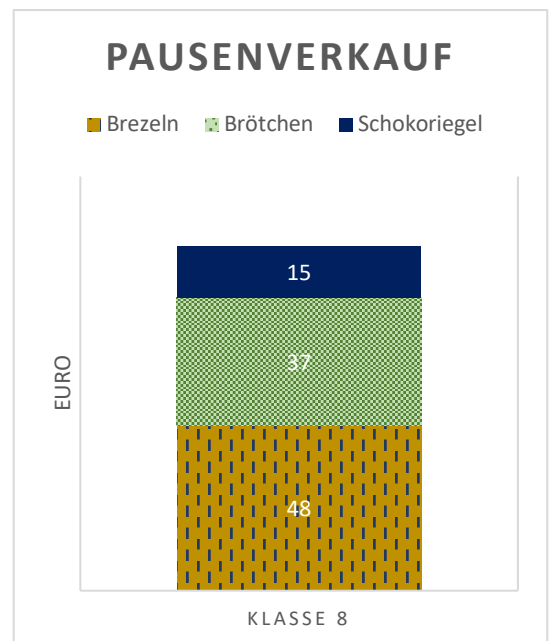
 _____

 _____

Aufgabe 2

In dem Diagramm siehst du die Einnahmen der Klasse 8 aus dem Pausenverkauf. Beantworte die Fragen.

- a) Wie viel Euro hat die Klasse insgesamt eingenommen? _____
- b) Wovon wurde am wenigsten verkauft? _____
- c) Was wurde am meisten verkauft? _____
- d) Woran wurde ungefähr die Hälfte verdient? _____



5.1 Aus Diagrammen Zahlenwerte/ Bruchzahlen entnehmen

Aufgabe 3

Verbinde die Brüche mit dem richtigen Anteil in dem Diagramm.

Tipp: Alle Brüche finden einen Platz.

