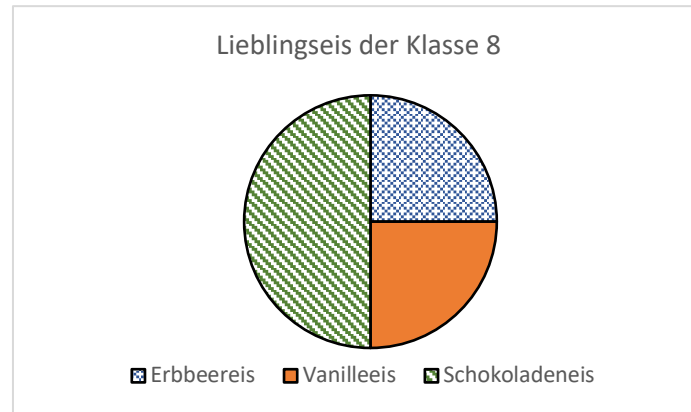


Aufgabe 1:

Das Kreisdiagramm zeigt die Lieblingseissorten der Klasse 8.
Fülle die Tabelle aus.



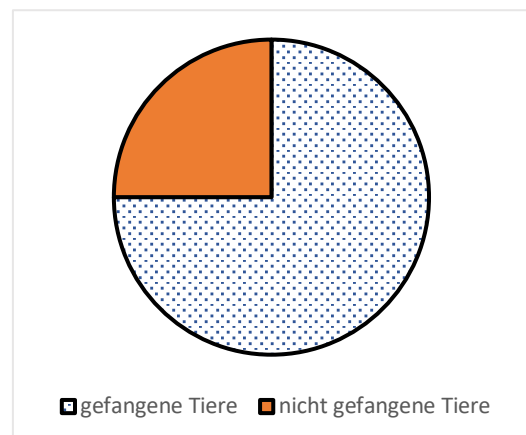
Lieblingseis der Klasse 8	
Eis	Anteil der Klasse
Erdbeereis	
Vanilleeis	
Schokoladeneis	

Aufgabe 2:

Bei dem Playstation-Spiel muss Clara Tiere fangen.
Trage ein.

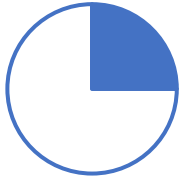
Clara hat schon ___ der Tiere gefangen.

Clara hat ___ der Tiere nicht gefangen.

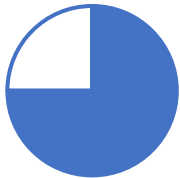


Aufgabe 3:

In den Diagrammen sind Anteile farbig markiert.
Verbinde.



$$\frac{1}{2}$$



$$\frac{1}{3}$$



$$\frac{3}{4}$$



$$\frac{1}{4}$$