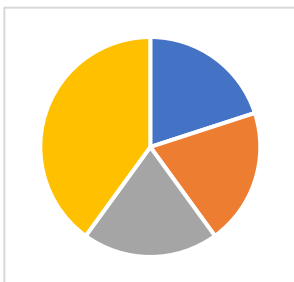
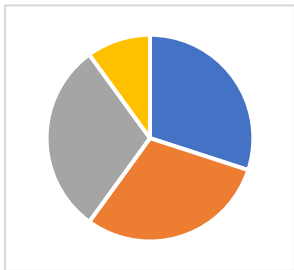
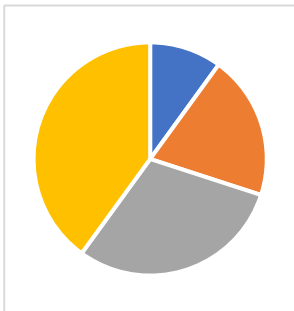

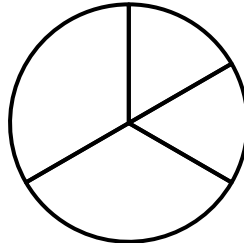


Aufgabe 1: Was passt zusammen? Verbinde



Aufgabe 2:

Beschrifte die Bruchteile.



Aufgabe 3:

Die Klasse 7 plant einen Ausflug.

In der Klasse sind 24 Schüler

Es gibt drei Ideen.

Ergänze die Tabelle.

Ausflugsziele Klasse 7		
Ausflugsziel	Anteil der Stimmen	Anzahl der Stimmen
Kino	$\frac{1}{2}$	
Kletterwald		6
Zoo	$\frac{1}{4}$	

Aufgabe 4:

Stelle das Kreisdiagramm als Streifendiagramm dar.

