

Aufgabe 1: Trage in die Tabelle ein.

Um 18qm Rasen zu mähen, brauchst du 54 Minuten. Wie lange brauchst du für 60qm?

	Rasenfläche	Minuten	
<input type="text"/>	<input type="text"/>	<input type="text"/>	<input type="text"/>
<input type="text"/>	<input type="text"/>	<input type="text"/>	<input type="text"/>
<input type="text"/>	<input type="text"/>	<input type="text"/>	<input type="text"/>

Antwort: _____

Drei Kugeln Eis kosten 4,50€. Wie viel kosten 7 Kugeln Eis?

	Eiskugel	€	
<input type="text"/>	<input type="text"/>	<input type="text"/>	<input type="text"/>
<input type="text"/>	<input type="text"/>	<input type="text"/>	<input type="text"/>
<input type="text"/>	<input type="text"/>	<input type="text"/>	<input type="text"/>

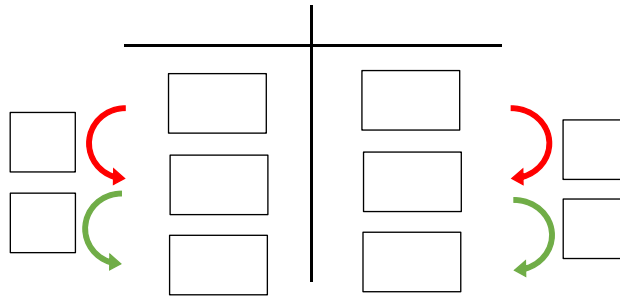
Antwort: _____

Vier Kinokarten kosten 28€. Wie viel kosten 7 Kinokarten?

	Kinokarten	€	
<input type="text"/>	<input type="text"/>	<input type="text"/>	<input type="text"/>
<input type="text"/>	<input type="text"/>	<input type="text"/>	<input type="text"/>
<input type="text"/>	<input type="text"/>	<input type="text"/>	<input type="text"/>

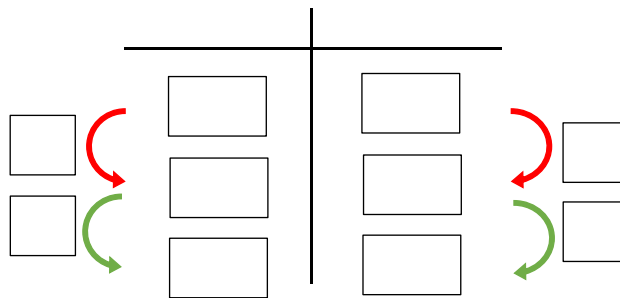
Antwort: _____

Zwei Stadionkarten kosten 48€. Wie viel € kosten 5 Stadionkarten?



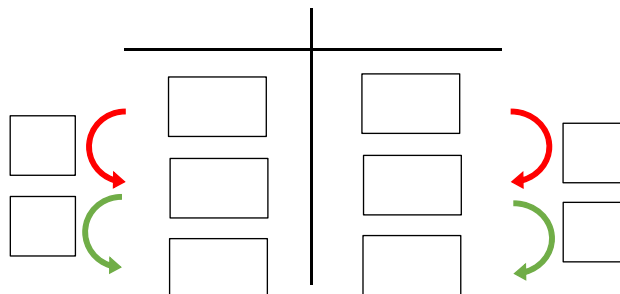
Antwort: _____

Vier Flaschen Limonade kosten 6€. Wie viel € kosten mit 15 Flaschen?



Antwort: _____

Um eine Wand mit $20m^2$ zu streichen braucht ein Maler 30min. Wie lange benötigt er für $30m^2$.



Antwort: _____