


1.4 Prozente im 100er-Feld

Aufgabe 1:


Wie viele Kästchen sind rot?

Schreibe als Anteil und als Prozent.




_____ von 100

_____ %




_____ von 100

_____ %




_____ von 100

_____ %




_____ von 100

_____ %



_____ von 100

_____ %



_____ von 100

_____ %


Aufgabe 2:

Wie viele Kästchen sind die angegebenen Protzen im 100er Feld?

Male den Anteil aus.


23 %

_____ von 100



76 %

_____ von 100



47 %

_____ von 100

