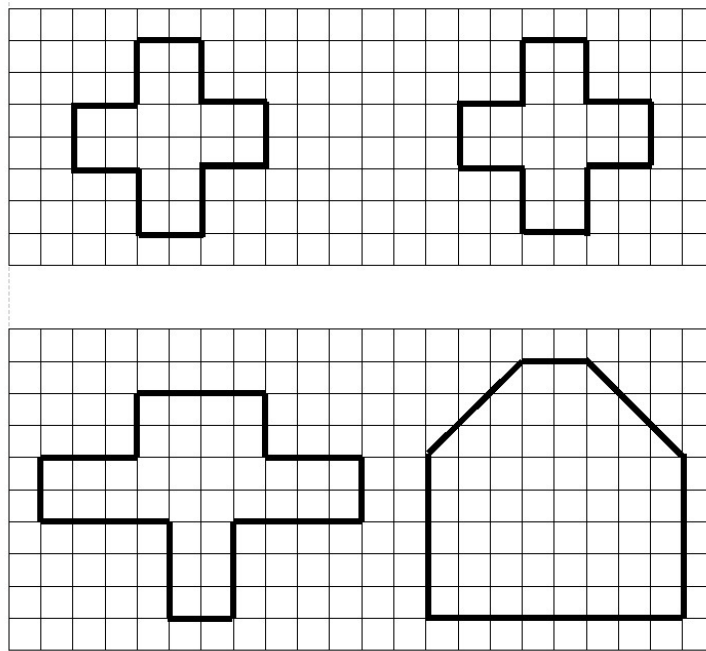


1.2 In gleich große Stücke teilen

Aufgabe 1:

Teile die Figuren auf unterschiedliche Weise in zwei Hälften.
Male eine Hälfte farbig an.



Aufgabe 2:

In wie viele Teile wurde die Pizza geteilt?
Verbinde.
Achtung! Ein Begriff bleibt übrig.



Halbe


Sechstel

Achtel

Drittel

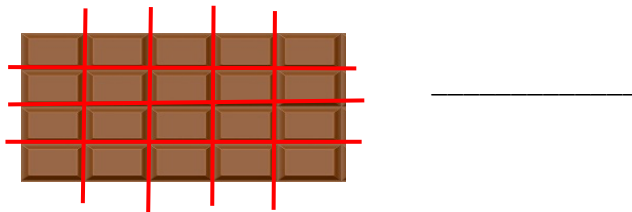

Siebtel

Viertel



Aufgabe 3:

a) In wie viele Teile wurde die Schokolade geteilt?



b) Teile die Schokolade in 5 Teile.



c) Teile die Schokolade in 4 Teile.



1.2 In gleich große Stücke teilen

Aufgabe 4:

Fülle die Tabelle aus.

Die Wortkarten unter der Tabelle helfen dir.

Achtung! Drei Begriffe bleiben übrig.

| Anzahl der Teile | Name der Teile |
|------------------|----------------|
| Zwei Teile | |
| | Drittel |
| Vier Teile | |
| Fünf Teile | |
| | Zehntel |

