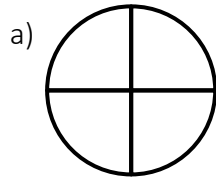


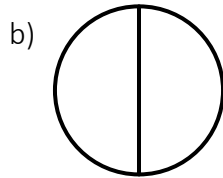
## 1.3 Brüche lesen und schreiben

### Aufgabe 1:

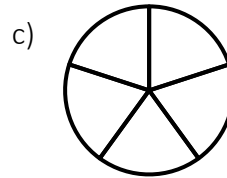
In welche Bruchteile wurden die Kreise aufgeteilt?



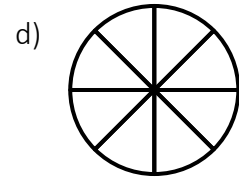
Viertel



\_\_\_\_\_



\_\_\_\_\_



\_\_\_\_\_

### Aufgabe 2:

Welche Abbildung ist falsch?  
Streiche durch.

