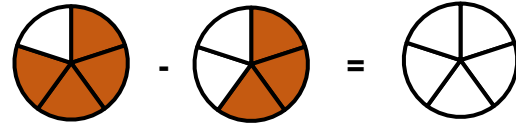


4.3 Brüche subtrahieren

Aufgabe 1:

Rechne aus.

Male den passenden Bruchteil aus.



$$\frac{2}{3} - \frac{1}{3} = \underline{\quad}$$

$$\frac{4}{5} - \frac{3}{5} = \underline{\quad}$$

Aufgabe 2:

Rechne aus.

Kürze, wenn möglich.

$$\frac{3}{4} - \frac{2}{4} = \underline{\quad}$$

$$\frac{4}{3} - \frac{2}{3} = \underline{\quad}$$

$$\frac{4}{6} - \frac{2}{6} = \underline{\quad} = \underline{\quad}$$

$$\frac{6}{8} - \frac{4}{8} = \underline{\quad} = \underline{\quad}$$

Aufgabe 3:

Färbe die Aufgabe und das passende Ergebnis in der gleichen Farbe.

$$\frac{4}{5} - \frac{2}{5}$$

$$\frac{3}{6} - \frac{2}{6}$$

$$\frac{2}{5}$$

$$\frac{6}{7} - \frac{3}{7}$$

$$\frac{1}{4}$$

$$\frac{2}{8}$$

$$\frac{4}{4} - \frac{3}{4}$$

$$\frac{5}{8} - \frac{3}{8}$$

$$\frac{1}{6}$$

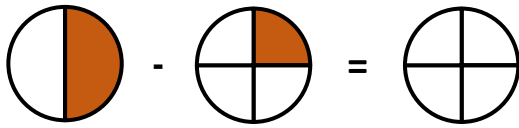
$$\frac{3}{7}$$

4.3 Brüche subtrahieren

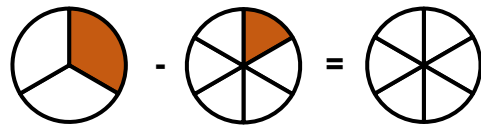
Aufgabe 4:

Rechne aus.

Male den passenden Bruchteil aus.



$$\frac{1}{2} - \frac{1}{4} = \text{---}$$



$$\frac{1}{3} - \frac{1}{6} = \text{---}$$

Aufgabe 5:

Rechne aus.

Kürze, wenn möglich.

$$\frac{3}{4} - \frac{1}{2} = \text{---}$$

$$\frac{4}{6} - \frac{1}{3} = \text{---} = \text{---}$$

$$\frac{5}{8} - \frac{1}{4} = \text{---}$$

$$\frac{6}{10} - \frac{2}{5} = \text{---} = \text{---}$$

Aufgabe 6:

Färbe die Aufgabe und das passende Ergebnis in der gleichen Farbe.

$$\frac{5}{10} - \frac{1}{5}$$

$$\frac{5}{6} - \frac{2}{3}$$

$$\frac{3}{10}$$

$$\frac{5}{4} - \frac{1}{2}$$

$$\frac{1}{8}$$

$$\frac{5}{8}$$

$$\frac{7}{8} - \frac{1}{4}$$

$$\frac{5}{8} - \frac{2}{4}$$

$$\frac{1}{6}$$

$$\frac{3}{4}$$