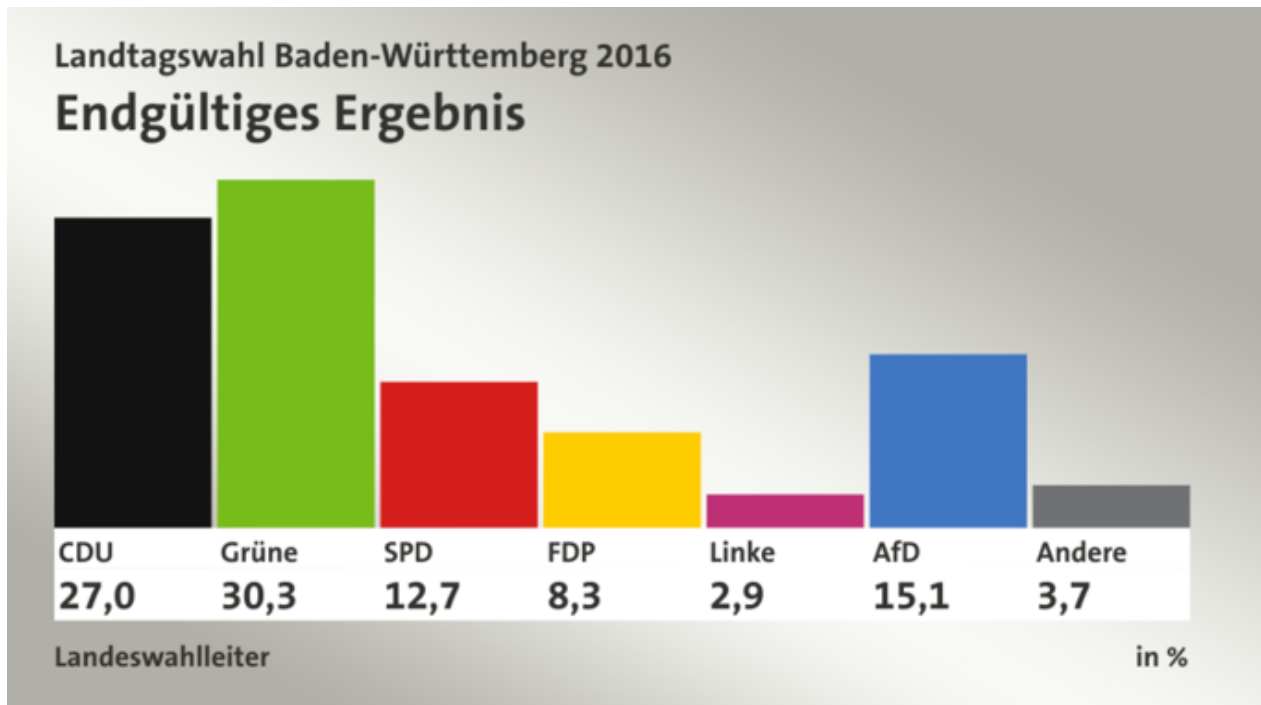


Aufgabe 1

Beantworte die Fragen.

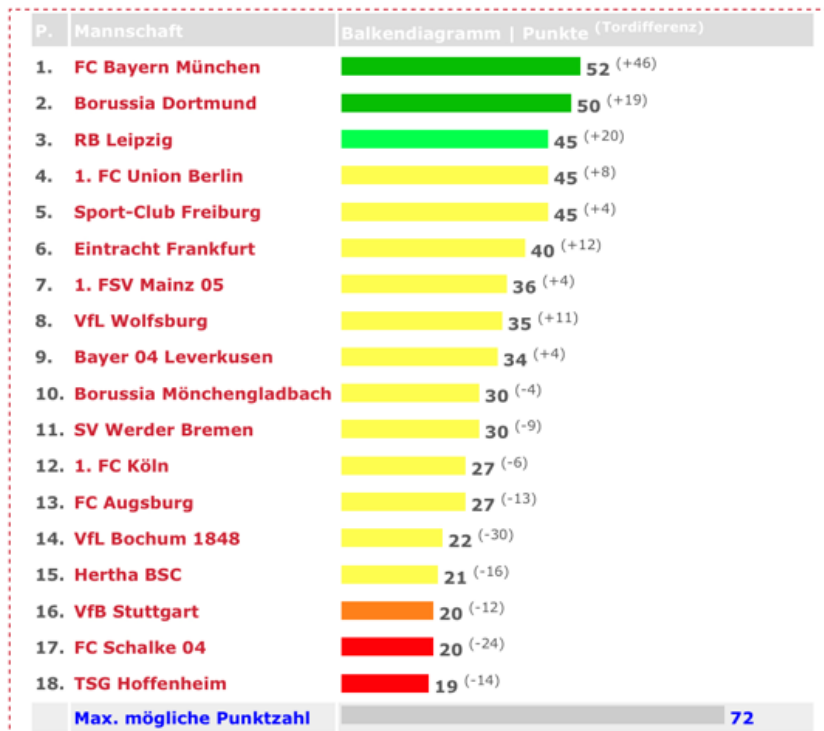
- a) Worum geht es in der Tabelle? \_\_\_\_\_
- b) Welche Partei hat ungefähr  $\frac{1}{3}$  der Stimmen bekommen? \_\_\_\_\_
- c) Welchen Anteil an Stimmen hat die CDU bekommen? (Schreibe als Bruch) \_\_\_\_\_
- d) Welche Partei hat ungefähr  $\frac{15}{100}$  der Stimmen bekommen? \_\_\_\_\_

## Aufgabe 2

Das Diagramm zeigt die Ergebnisse der ersten Fußballbundesliga. Schau es dir an und beantworte die Fragen.

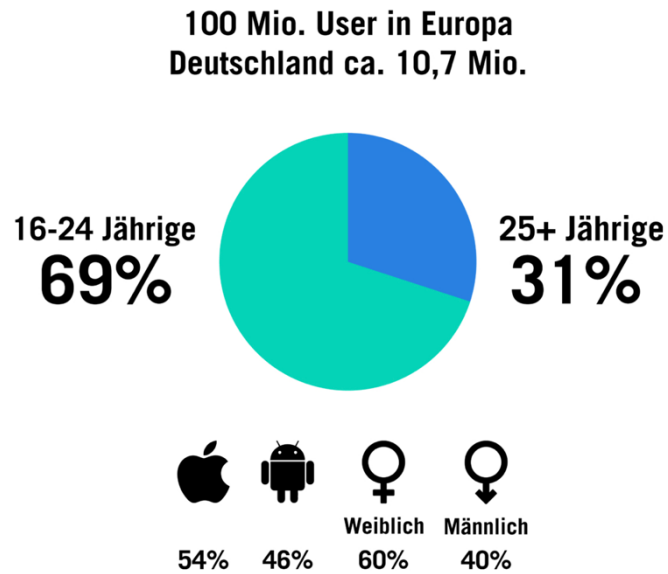
### 1. Bundesliga: Tabelle mit Balkendiagramm

Saison 2022/2023: Tabelle zum 24. Spieltag



- Welche Mannschaft hat die geringste Punktzahl? \_\_\_\_\_
- Welche Mannschaft hat die Hälfte der möglichen Punkte? \_\_\_\_\_
- Wie viele Mannschaften haben weniger als  $\frac{1}{3}$  der möglichen Punkte? \_\_\_\_\_
- Wie viele Mannschaften haben mehr als  $\frac{3}{4}$  der Punkte? \_\_\_\_\_

Aufgabe 3



Das Diagramm zeigt die Nutzer von TikTok.  
Fülle die Tabelle aus.

	Wahr	Falsch
Circa $\frac{1}{3}$ der TikTok Nutzer sind 24 Jahre und jünger.		
Circa $\frac{1}{4}$ der Nutzer in Europa kommt aus Deutschland.		
Es sind mehr weibliche Nutzerinnen als männliche.		
Circa die Hälfte der Nutzer nutzen ein IOS.		
Die meisten Nutzer sind älter als 25 Jahre.		
$\frac{2}{5}$ der Nutzer sind männlich.		